

Escriban la sucesión numérica que corresponde al número de cuadrados azules y rojos de la siguiente sucesión de figuras.



Figura 1




Figura 2




Figura 3

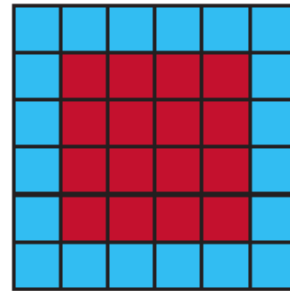


Figura 4

Sucesión: \_\_\_\_\_, \_\_\_\_\_, \_\_\_\_\_, \_\_\_\_\_, \_\_\_\_\_, \_\_\_\_\_, \_\_\_\_\_, \_\_\_\_\_, \_\_\_\_\_

¿Los números 5 y 10 corresponden a la sucesión numérica?