

Se está armando un piso de madera con las siguientes sucesiones de estructuras.




Figura 1




Figura 2

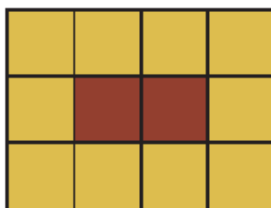


Figura 3

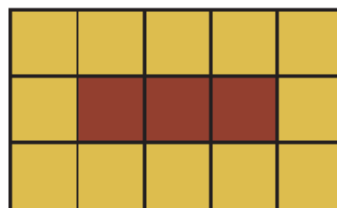


Figura 4

1.- ¿Cuántos cuadrados de color café y de color beige se necesitan para armar una estructura de 30 piezas en total y que corresponda con la sucesión?

2.- ¿Cuál es el perímetro de esta estructura de 30 piezas?